

学校名 () () 年 () 組

なまえ ()

正しい組み合わせを線でつないでみましょう。


1 土偶の名前

縄文の	●	●	女神
仮面の	●	●	姫
おやゆび	●	●	ビーナス



2 考古館とかかわりのある人物の名前

宮坂	●	●	小平治
藤森	●	●	英弍
小平	●	●	栄一

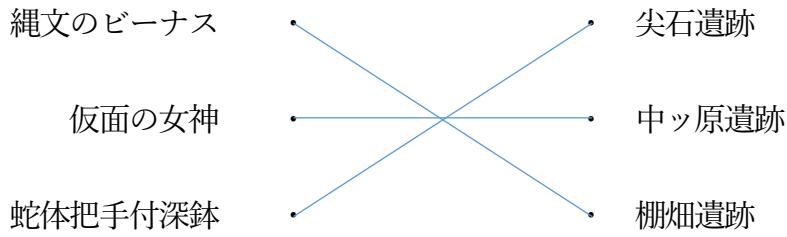


3 茅野市にある博物館の名前

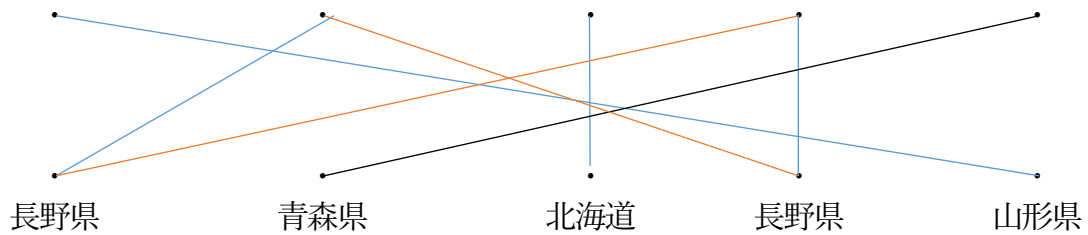
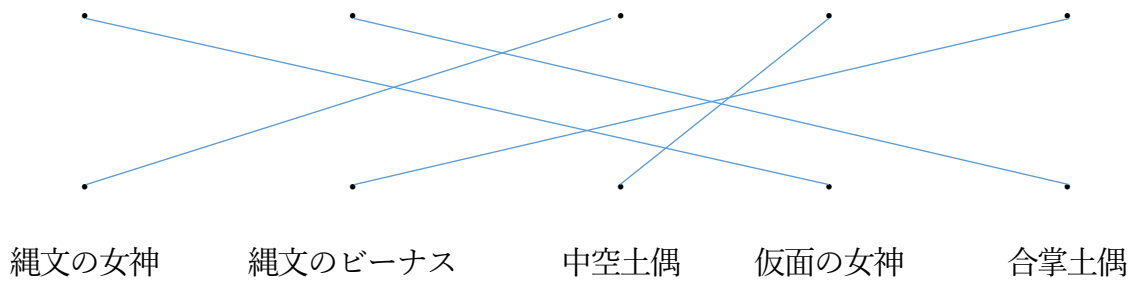
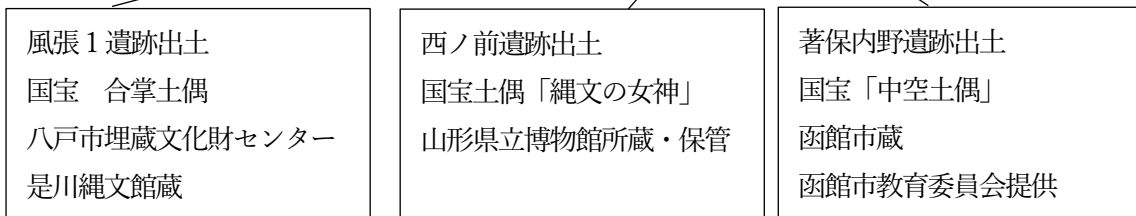

八ヶ岳	●	●	総合博物館
神長官	●	●	縄文考古館
尖石	●	●	守矢史料館



4 土器や土偶と出土した遺跡の正しい組み合わせ

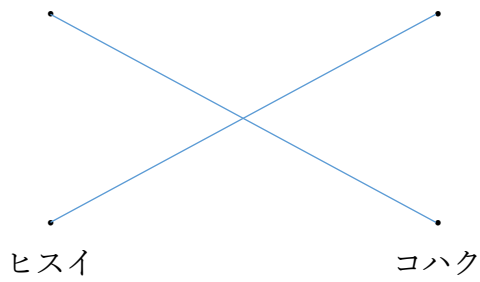


5 土偶の写真と名前、出土地（都道府県）の正しい組み合わせ

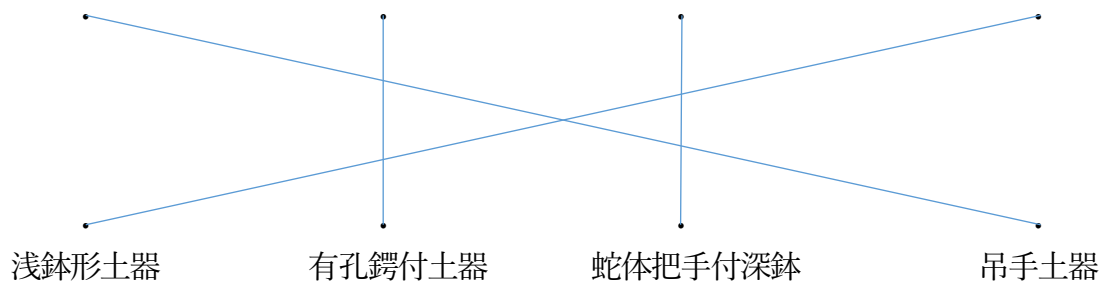


※オレンジも正解

6 3枚の写真と正しい名前の組み合わせ



7 4枚の土器の写真と土器の正しい組み合わせ




8 それぞれの土偶の写真と、土偶のつくりの正しい組み合わせ



中空土偶

中実土偶

9 それぞれの土器と時代区分の正しい組み合わせ



後期

早期


晩期

前期

中期

10 5枚の写真と年代の正しい組み合わせ

(5枚の写真は、考古館や、考古館の元となった建物です)




①



②



③



④



⑤

